


ULANGAN KENAIKAN KELAS (UKK)

MATA PELAJARAN : Matematika
KELAS : I (Satu)
HARI, TANGGAL :

NAMA :

Nilai :

I. Isilah titik-titik pada soal di bawah ini dengan jawaban yang benar!



Banyaknya benda pada gambar disamping adalah

2. Urutkan bilangan dibawah ini dari yang terbesar

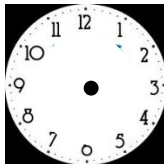


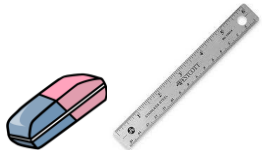
=

3. Nani mempunyai 36 buah rambutan Mira memberinya lagi 23 buah rambutan, berapa buah rambutan Nani sekarang....

4. Sesudah hari jum'at adalah

5. Randi pergi kesekolah pukul 7 pagi gambarlah jarum jam yang menunjukkan kapan kegiatan berikut dilakukan!



6.  Gambar disamping manakah yang lebih pendek

7. 12 jengkal ditambah 16 jengkal adalah

8. Sebutkan Contoh bangun ruang berbentuk tabung

9. Tentukan lima bilangan berikutnya.

(bilangan loncat 6) = (8), (4), (), (), (), (), (), ()..

10. $28 = \dots$ puluhan + ... satuan

11. $53 = \dots + \dots$

25 = ... + ... +

= ... + ...

= ...

12. 29

6 -

....

$$13. 10 + 8 + 8 = (\dots + \dots) + \dots$$

$$= \dots + \dots$$

$$= \dots$$

$$14. 12 - 6 - 6 = (\dots + \dots) + \dots$$

$$= \dots + \dots$$

$$= \dots$$

15. Isilah dengan istilah berat atau ringan

Meja =

Gunting =



16



Buah disamping yang lebih berat adalah

17. 12 ekor gajah - 12 ekor bebek

Mana yang lebih berat

18. Warnailah bangun yang berbentuk lingkaran

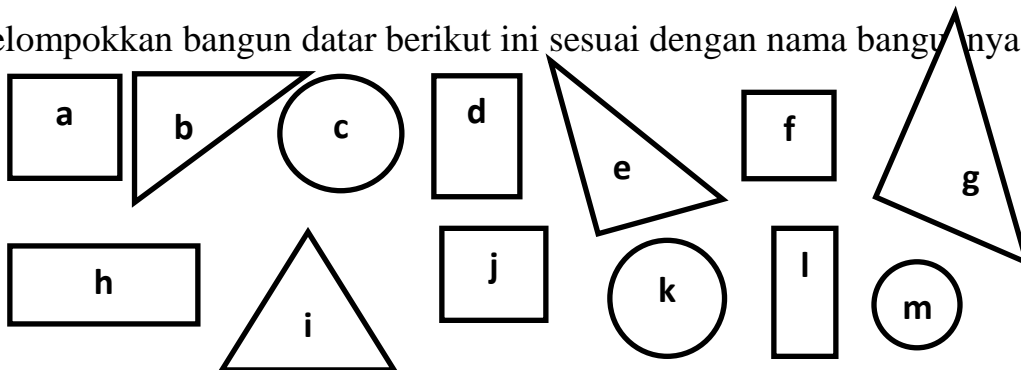


19. Bangun segitiga mempunyai sisi sebanyak

20. Bangun yang sisinya berbentuk melingkar adalah

21. Gambarlah bangun segitiga dan segiempat!

Kelompokkan bangun datar berikut ini sesuai dengan nama bangunnya.



22. Bangun segitiga ditunjukkan oleh huruf

23. Bangun persegi ditunjukkan oleh huruf

24. Bangun persegi panjang ditunjukkan oleh huruf

25. Bangun lingkaran ditunjukkan oleh huruf