



ESCOLA MUNICIPAL ANTONIO CUSTÓDIO

PROFESSORA: _____ 4º BIMESTRE/2015


ALUNO (A): _____

PRÉ- ESCOLAR

DATA: ____/____/____

VERIFICAÇÃO DE APRENDIZAGEM DE MATEMÁTICA

- 1) AJUDE O SAPINHO ATRAVESSAR AS PEDRAS COMPLETANDO A SEQUÊNCIA NUMÉRICA ATÉ 20.



- 2) BÁRBARA COLECIONA LÁPIS DE COR. CONTE QUANTOS LÁPIS BÁRBARA TEM E MARQUE COM UM X O QUADRADINHO CORRESPONDENTE.



8

10

12

14

- 3) OBSERVE OS VASOS QUE A MAMÃE TEM.



QUANTOS ESTÃO COM FLORES?

QUANTOS ESTÃO SEM FLORES?

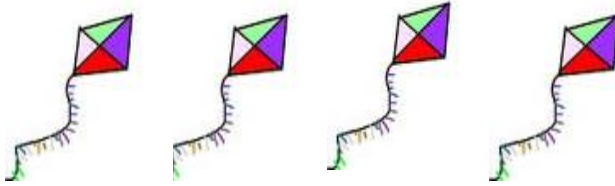
QUANTOS VASOS SÃO AO TODO?

- COMPLETE O TRABALHO DA MAMÃE, DESENHANDO FLORES NOS VASOS QUE ESTÃO VAZIOS.

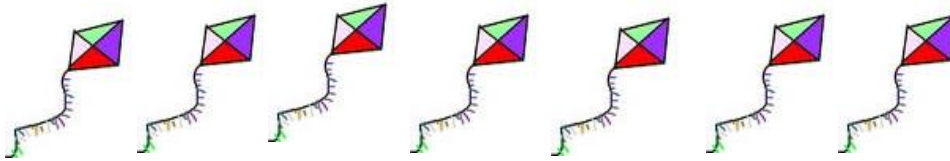
4) RESOLVA:

PEDRO E RAUL GOSTAM DE SOLTAR PIPAS.

PIPAS DE PEDRO



PIPAS DE RAUL



QUANTAS PIPAS RAUL E PEDRO TEM JUNTOS? _____

5) RESOLVA:

<p>EU TINHA</p>		<p>GANHEI</p>	<p>FIQUEI COM</p>
-----------------	--	---------------	-------------------

<p>TINHA</p>	<p>TIREI</p>	<p>FIQUEI COM</p>
--------------	--------------	-------------------

