

GUIAS NIVELACION

MATEMATICAS

TRANSICION

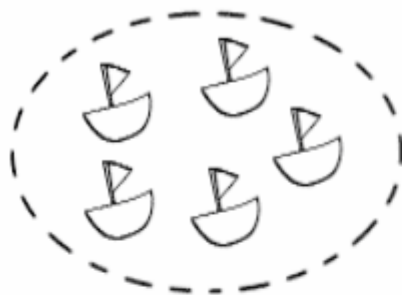
MARIA TERESA RODRIGUEZ

SALAS




1. ESCRIBIR LA CANTIDAD QUE CORRESPONDE

¿CUANTOS HAY?




5

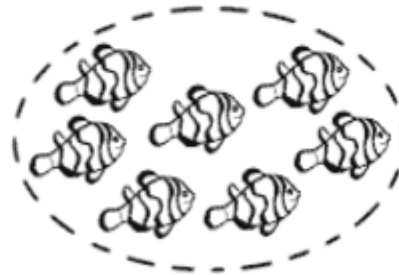
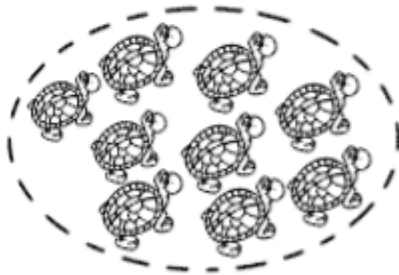

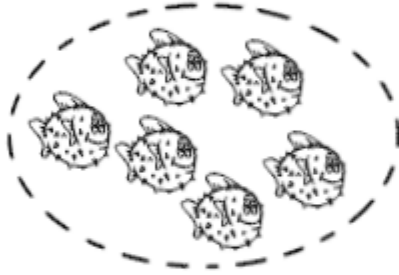


2.

¿CUANTOS HAY? CUENTA LOS ELEMENTOS Y  
ESCRIBE EL NÚMERO AL LADO




2




3.

¿CUANTOS HAY?









6



4. ESCRIBIR LA CANTIDAD DE CADA OBJETO DEL PARQUE

Observa la escena y cuenta. Luego, coloca la cantidad en el espacio.



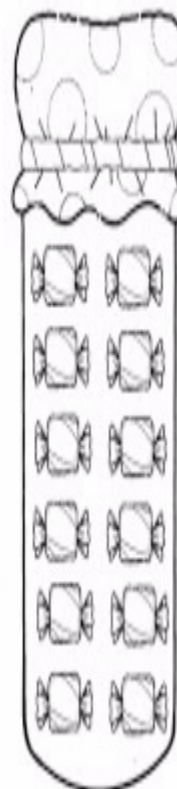
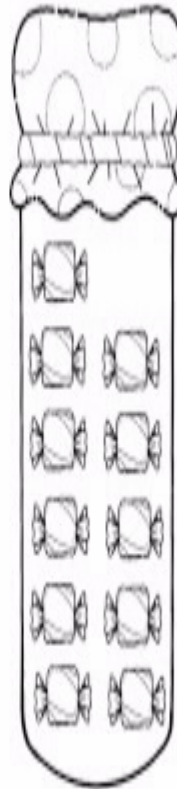

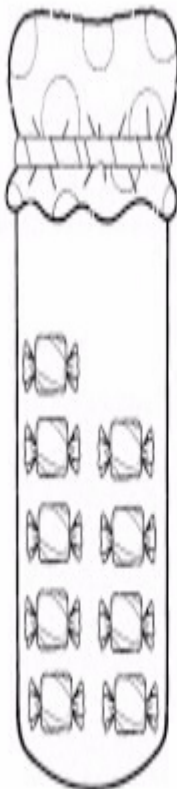
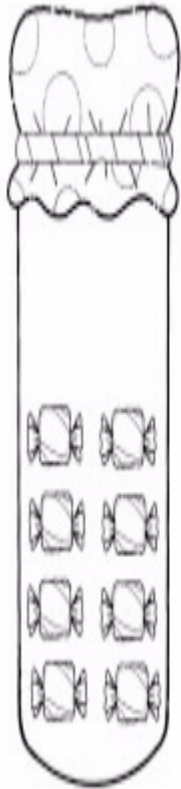
Nombre	
	
	
	
	
	

5. UNE LA CANTIDAD DE DULCES CON EL NUMERO CORRESPONDIENTE



Une con flechas la cantidad correcta de caramelos.

Nombre \_\_\_\_\_



6. COMPLETA LOS LUNARES DE CADA MARIPOSA PARA QUE AMBOS LADOS TENGAN LA MISMA CANTIDAD

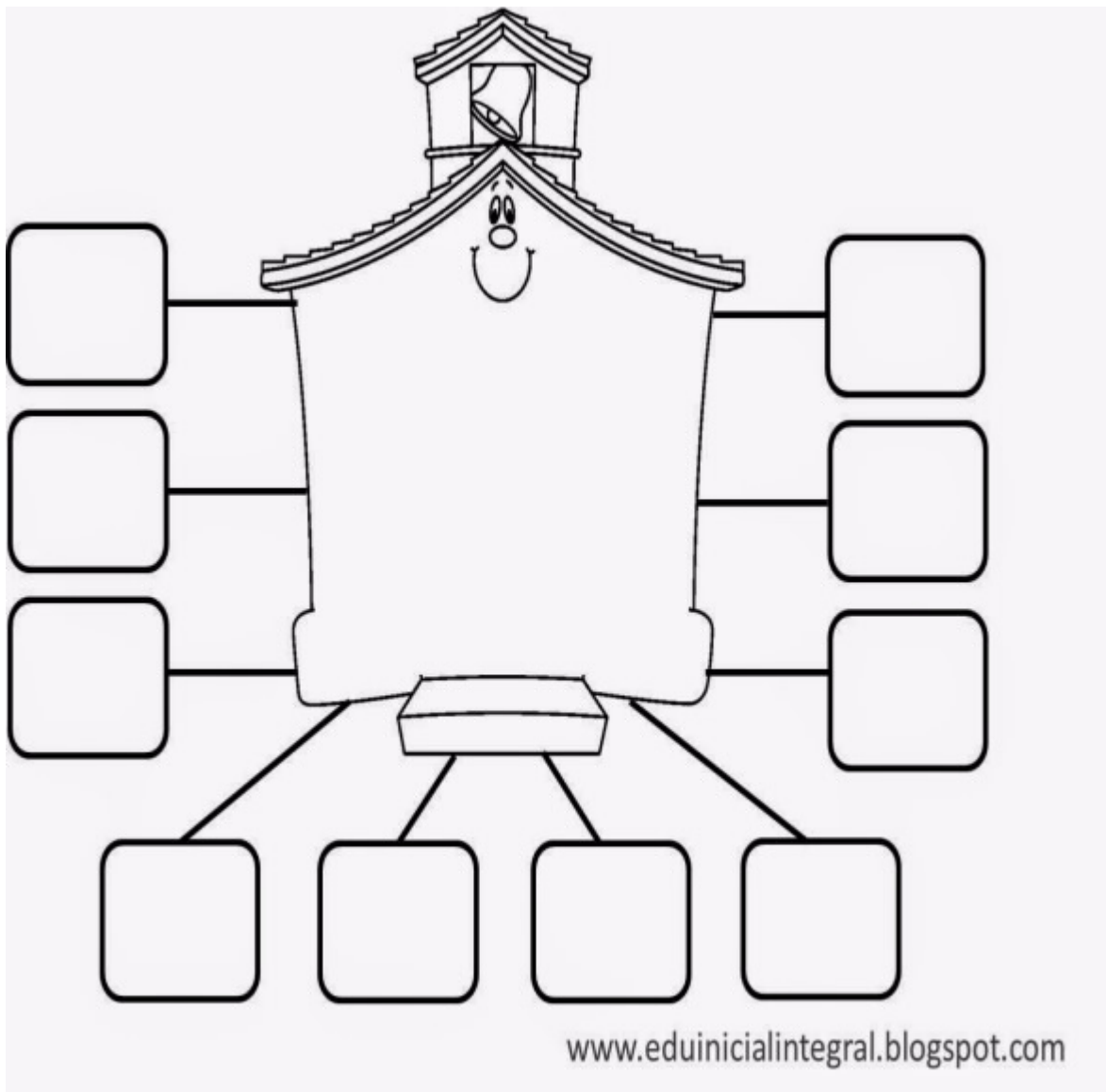
- COMPLETA LOS LUNARES DE CADA MARIPOSA PARA QUE AMBAS ALAS TENGAN LA MISMA CANTIDAD.
- COLOREA DE AMARILLO LA MARIPOSA CON MÁS LUNARES Y CON VIOLETA LA QUE TIENE MENOS.



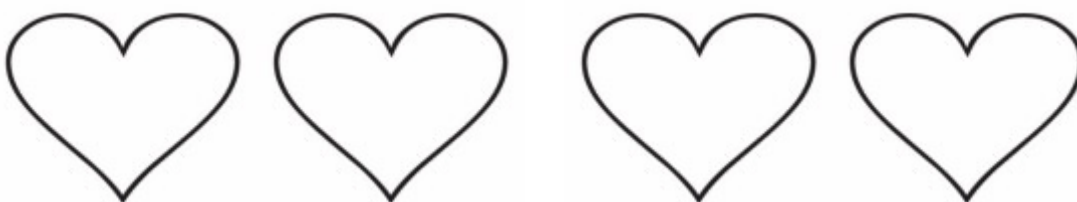




8 . COMPLETA EN LA CASA LA FAMILIA DEL 40



9. ESCRIBIR LA FAMILIA DEL 50 EN LOS CORAZONES



10. COMPLETAR LA FAMILIA DEL 60 EN LA SERIE

60 \_\_\_\_\_ 62 \_\_\_\_\_ 64 \_\_\_\_\_ 66 \_\_\_\_\_  
68 \_\_\_\_\_ 70 \_\_\_\_\_

11. ESCRIBIR LA FAMILIA DEL 70 HACIENDO LAS SUMAS

$70 + 1 =$

$70 + 5 =$

$70 + 2 =$

$70 + 6 =$

$70 + 3 =$

$70 + 7 =$

$70 + 4 =$


$70 + 8 =$


$70 + 9 =$

12. COMPLETAR LA FAMILIA DEL 80 EN LOS CUADROS


81		83
84		86
	88	


13. REALIZAR LAS SUMAS Y RESTAS


$$\begin{array}{r} 4 \\ - 3 \\ \hline \square \end{array}$$



$$\begin{array}{r} 3 \\ + 1 \\ \hline \square \end{array}$$


$$\begin{array}{r} 5 \\ - 4 \\ \hline \square \end{array}$$


$$\begin{array}{r} 2 \\ + 1 \\ \hline \square \end{array}$$


$$\begin{array}{r} 5 \\ - 3 \\ \hline \square \end{array}$$


$$\begin{array}{r} 3 \\ - 1 \\ \hline \square \end{array}$$


$$\begin{array}{r} 4 \\ - 2 \\ \hline \square \end{array}$$


$$\begin{array}{r} 5 \\ - 3 \\ \hline \square \end{array}$$

Nombre: .....

Fecha: .....

FICHA DE REFUERZO  
SUMAS Y RESTAS

$$\begin{array}{r} 6 \\ - 2 \\ \hline \end{array}$$

$$\begin{array}{r} 7 \\ - 2 \\ \hline \end{array}$$

$$\begin{array}{r} 9 \\ - 2 \\ \hline \end{array}$$

$$\begin{array}{r} 7 \\ - 0 \\ \hline \end{array}$$

$$\begin{array}{r} 6 \\ - 2 \\ \hline \end{array}$$

$$\begin{array}{r} 4 \\ - 2 \\ \hline \end{array}$$

$$\begin{array}{r} 5 \\ - 1 \\ \hline \end{array}$$

$$\begin{array}{r} 4 \\ - 2 \\ \hline \end{array}$$

$$\begin{array}{r} 9 \\ - 1 \\ \hline \end{array}$$

$$\begin{array}{r} 4 \\ - 2 \\ \hline \end{array}$$

$$\begin{array}{r} 6 \\ - 4 \\ \hline \end{array}$$

$$\begin{array}{r} 6 \\ - 5 \\ \hline \end{array}$$

$$\begin{array}{r} 4 \\ + 4 \\ \hline \end{array}$$

$$\begin{array}{r} 4 \\ + 2 \\ \hline \end{array}$$

$$\begin{array}{r} 5 \\ + 2 \\ \hline \end{array}$$

$$\begin{array}{r} 3 \\ + 6 \\ \hline \end{array}$$

$$\begin{array}{r} 8 \\ + 1 \\ \hline \end{array}$$

$$\begin{array}{r} 3 \\ + 6 \\ \hline \end{array}$$

$$\begin{array}{r} 2 \\ + 2 \\ \hline \end{array}$$

$$\begin{array}{r} 3 \\ + 4 \\ \hline \end{array}$$

$$\begin{array}{r} 6 \\ + 0 \\ \hline \end{array}$$

$$\begin{array}{r} 4 \\ + 2 \\ \hline \end{array}$$

$$\begin{array}{r} 0 \\ + 7 \\ \hline \end{array}$$

$$\begin{array}{r} 7 \\ + 1 \\ \hline \end{array}$$