

Bulatkan jawapan yang betul, A, B atau C.

1. Nilai digit 8 dalam nombor 708 ialah
 - A 8
 - B 80
 - C 800

2. $85 + 19 =$
 - A 94
 - B 104
 - C 114

3. Jumlah bagi 403 dan 362 ialah
 - A 705
 - B 765
 - C 865

4. $198 - 45 =$
 - A 133
 - B 143
 - C 153

5. Antara di bawah ini, yang manakah **betul** ?
 - A $56 - 17 = 38$
 - B $152 - 32 = 130$
 - C $486 - 105 = 381$

6. Nombor manakah **nilai tempat** bagi digit 4 ialah puluh ?
 - A 412
 - B 214
 - C 142

7. 607 dalam perkataan ialah
A Enam ratus tujuh puluh
B Enam ratus tujuh belas
C Enam ratus tujuh
8. $918 =$
A $900 + 80 + 1$
B $900 + 10 + 8$
C $900 + 8 + 1$
9. **Empat ratus dua** dalam nombor ialah
A 422
B 420
C 402
10. 6 ratus + 8 puluh + 4 sa =
A 864
B 684
C 648
11. $245 - \square = 125$
A 140
B 130
C 120
- 12.
- | | | | | |
|-----|-----|--|-----|-----|
| 356 | 366 | | 386 | 396 |
|-----|-----|--|-----|-----|
- Nombor yang tertinggal di atas ialah :
A 367
B 376
C 385

13. Nombor yang manakah yang lebih besar daripada 324 tetapi lebih kecil daripada 333 ?
- A 323
 - B 325
 - C 334
14. Bundarkan 788 kepada **puluh yang terdekat**
- A 780
 - B 790
 - C 800
15. $224 - 21 =$
- A 203
 - B 245
 - C 235
16. Salmah mempunyai 385 biji manik hijau dan 95 biji manik biru. Berapakah jumlah manik Salmah semuanya ?
- A 485
 - B 480
 - C 490
17. Terdapat 380 orang dewasa dan 75 orang kanak-kanak di dalam sebuah kapal terbang. Berapakah beza di antara bilangan orang dewasa dan kanak-kanak ? Antara berikut yang manakah betul ?
- A $380 + 75 = 455$
 - B $380 - 75 = 315$
 - C $380 - 75 = 305$
18. Yang manakah betul ?
- A $300 + 80 + 9 = 398$
 - B $600 + 50 + 2 = 625$
 - C $900 + 50 + 5 = 955$

19. Abakus yang ditunjukkan di bawah mewakili :

- A 459
- B 469
- C 479

20.

7 5 9

Nilai tempat bagi angka bergaris di atas ialah

- A sa
- B puluh
- C ratus

21.

610	608		604	
-----	-----	--	-----	--

Nombor yang tertinggal dalam jadual di atas ialah

- A 612 , 602
- B 606 , 603
- C 606 , 602

22. Nawi ada 570 biji rambut. Dia memberi 250 biji rambut kepada kakaknya. Baki yang tinggal ialah _____ biji rambut .

- A 330
- B 320
- C 220

23.

655	670	660	665	650
-----	-----	-----	-----	-----

Susunan **tertib menaik** bagi nombor-nombor di atas ialah :

A 655 , 660 , 665 , 670 , 650

B 670 , 665 , 660 , 655 , 650

C 650 , 655 , 660 , 665 , 670

24. Antara nombor berikut yang mana bila dibundarkan kepada **ratus yang terdekat** ialah 800.

A 738

B 748

C 758

25. Encik Ramli menternak 565 ekor itik dan 215 ekor ayam. Berapa ekorkah bilangan semua haiwan ternakannya ?

A 770

B 780

C 790



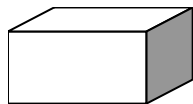
26. Amin mempunyai 120 buah buku komik, abangnya Amran pula mempunyai 30 buah buku komik lebih daripada Amin. Berapa buah komikkah yang mereka berdua ada ?

A 90

B 150

C 270

27.



Setiap kotak di atas mengandungi 120 biji limau.

Berapa bijikah jumlah limau semuanya ?

A 123

B 260

C 360

● Kira dan pilih jawapan yang betul :

28.
$$\begin{array}{r} 568 \\ + 140 \\ \hline \\ \hline \end{array}$$

- A 428
- B 608
- C 708

29.
$$\begin{array}{r} 986 \\ - 183 \\ \hline \\ \hline \end{array}$$

- A 803
- B 813
- C 883

30.
$$\begin{array}{r} 625 \\ - 419 \\ \hline \\ \hline \end{array}$$

- A 204
- B 214
- C 216

SELAMAT MENJAWAB.... SAYA SUKA MATEMATIK !!!