



ESCOLA MUNICIPAL ANTONIO CUSTÓDIO

PROFESSORA: _____ 3º BIMESTRE/2015


ALUNO (A): _____

PRÉ- ESCOLAR







DATA: ____/____/____

VERIFICAÇÃO DE APRENDIZAGEM DE MATEMÁTICA

1) COMPLETE A AMARELINHA DO CARACOL.



2) EM CADA ÁRVORE DESENHE A QUANTIDADE DE FRUTOS QUE SE PEDE.



3) ESCREVA OS NUMERAIS DE 4 A 9 DENTRO DOS BALÕES DO URSINHO POOH E LEITÃO.



4) OBSERVE O TRENZINHO E FAÇA O QUE SE PEDE:

PINTE O NUMERAL **5** DE AMARELO
PINTE O NUMERAL **6** DE AZUL
PINTE O NUMERAL **7** DE VERDE
PINTE O NUMERAL **8** DE VERMELHO
PINTE O NUMERAL **9** DE LARANJA



Capriche!